

2023 年度 B

社 会

(全 10 ページ)

注意事項

1. 受験番号, 氏名および解答は, すべて解答用紙に記入しなさい。
2. 問題用紙に解答を書き込んでも採点されません。

I. 以下の問いに答えなさい。

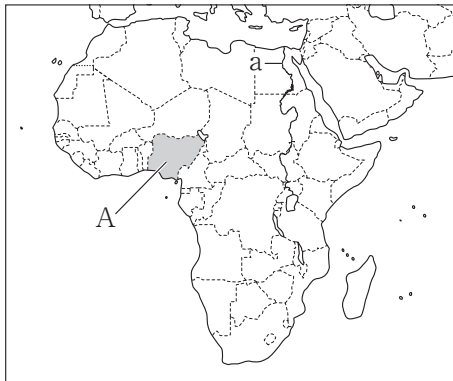


図1



図2



図3



図4

※図1～図4の縮尺はそれぞれ異なっている。


〔1〕 次のア～エは、図1～図3中の a～d の川についての説明である。このうち、a、c の川にあてはまる説明を、それぞれ1つずつ選び、記号で答えなさい。

- ア. この川の中流にはとうもろこしや大豆の栽培がさかんな地域が、下流には綿花の栽培がさかんな地域が広がっている。
- イ. チベット高原から流れ出し南シナ海に注ぐ川である。この川の河口に形成された三角州では、稲作がさかんである。
- ウ. 世界で三番目に長い川で、東シナ海に注いでいる。この川の中・下流域は降水量が多く稲作がさかんである。
- エ. 世界で最も長い川である。河口周辺の国は、降水量が極めて少なく砂漠が広がり、イスラム教を信仰する人が多い。

〔2〕 図2中の X はニューヨークの標準時子午線であり、東京が2月10日午後3時のとき、ニューヨークは2月10日午前1時である。図2中の X の経線の経度を、東経・西経を明らかにして答えなさい。

〔3〕 図2中のYの近郊には、コンピューターやインターネット関連の企業が集中する地域がある。この地域は何と呼ばれているか、答えなさい。

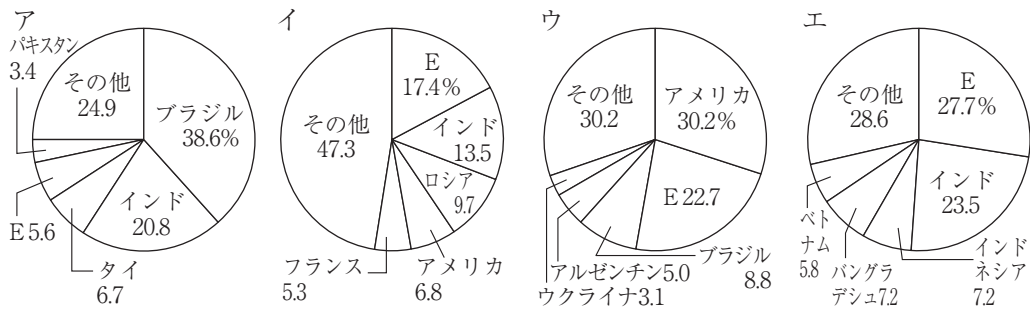
〔4〕 次の図5は、図1～図3中のA～Dのいずれかの国の輸出額の内訳を示している。図5にあてはまる国を、A～Dから1つ選び、記号で答えなさい。



(2018年, 「世界国勢図会 2021/22年版」をもとに作成)

図5

〔5〕 次の図6は、米、小麦、とうもろこし、さとうきびの国別生産量の割合を示したものであり、図6中のEは、図3中のEの国があてはまる。小麦にあてはまるものを、図6のア～エから1つ選び、記号で答えなさい。

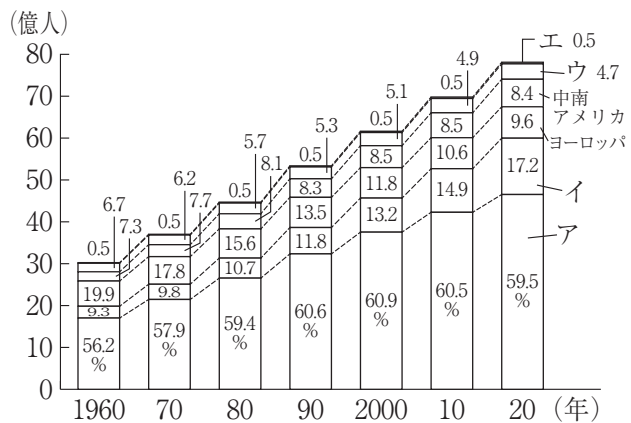


(2019年, 「世界国勢図会 2021/22年版」をもとに作成)

図6

〔6〕 図4中のFの国の先住民は、18世紀ごろから迫害を受けていたが、近年はその文化が尊重されるようになっている。この先住民を何というか、カタカナで答えなさい。

〔7〕 右の図7は、世界の地域別人口の推移を示しており、図7中のア～エには、アフリカ、北アメリカ、アジア、オセアニアのいずれかがあてはまる。アフリカにあてはまるものを、ア～エから1つ選び、記号で答えなさい。



内訳の合計が100%になるように調整していない。

(「世界国勢図会 2021/22年版」をもとに作成)

図7

〔8〕 次の表1は、4つの都道府県の主な生産物を示し、表2は、表1の4つの都道府県の都道府県庁所在地の平均気温と降水量を示している。表1中のBの都道府県の県庁所在地の平均気温と降水量にあてはまるものを、表2中のア～エから1つ選び、記号で答えなさい。

表1

	主な生産物 ()内は順位
A	米(1位)*, 金属洋食器(1位)
B	ピアノ(1位), かつお類(1位)
C	レタス(1位)*, りんご(2位)*
D	うちわ(1位), オリーブ(1位)**

(※は2020年, ※※は2018年, その他は2019年, 「データでみる県勢2022年版」をもとに作成)

表2

	平均気温(℃)		降水量(mm)	
	1月	7月	1月	7月
ア	5.9	27.5	39.4	159.8
イ	-0.4	24.3	54.6	137.7
ウ	2.5	24.9	180.9	222.3
エ	6.9	26.1	79.6	296.6

(「理科年表2022年版」をもとに作成)

〔9〕 次のア～エは、あとの図8中の①～④の都道府県の農業についての説明である。

①・③の都道府県にあてはまる説明を、それぞれ1つずつ選び、記号で答えなさい。

ア. 東部の半島では水不足に悩まされていたが、大規模な用水が引かれたことで、現在は野菜の栽培や電照菊の栽培などがさかんである。

イ. 火山の噴出物が堆積した台地は稲作には不向きで、さつまいもや茶の栽培、肉牛や豚の飼育などが行われている。

ウ. 沖合を暖流の黒潮が流れ、冬も比較的温暖な気候を利用して、なすやきゅうりなどを、冬から春にかけて栽培・出荷している。

エ. 農家1戸あたりの耕地面積は他の都道府県より広く、じゃがいも、あずき、てんさいなどの栽培や、酪農がさかんである。

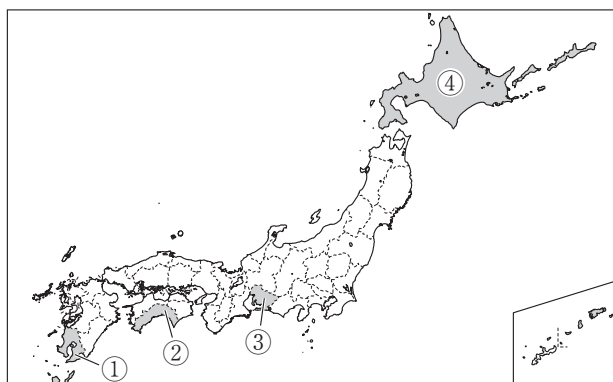


図8

〔10〕 次の□内は、ある工業地帯・地域の主な工業都市とさかんな工業を示している。

これらの工業都市が含まれる工業地帯・地域を何というか、答えなさい。

倉敷－石油化学	福山－鉄鋼	呉－造船	周南－石油化学	今治－造船
---------	-------	------	---------	-------

[11] 次の図9から読み取れることについて述べた文として正しいものを、あとのア～エから1つ選び、記号で答えなさい。

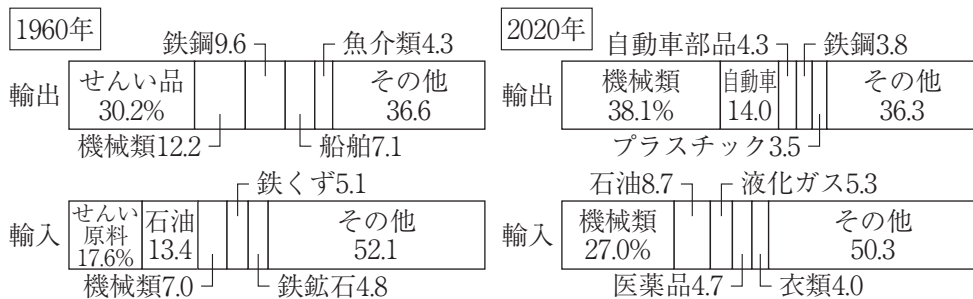


(平成19年国土地理院発行2万5千分の1地形図「徳島」をもとに作成)

図9

- ア. 「くらもと」駅から見て、警察署は南東に位置している。
- イ. Aの工場とBの工場の地形図上の距離が5cmのとき、実際の距離は1km以下である。
- ウ. Cの神社とD地点の標高を比べると、D地点の方が100m以上高い。
- エ. EとFの傾斜を比べると、Eの方がなだらかになっている。

[12] 次の図10は、1960年と2020年の日本の主な輸出品・輸入品の内訳を示している。日本の貿易の変化について述べたあとの文章中の X にあてはまる文を、「原料」「工業製品」の語句を使って、簡単に書きなさい。



(「日本国勢図会2022/23年版」をもとに作成)

図10

日本は、かつては加工貿易がさかんであった。しかし、現在の貿易は、加工貿易の特徴が薄れてきているといえる。この現象は、 X からわかる。

Ⅱ. 日本の役職の歴史に関する次の文章を読んで、以下の問いに答えなさい。

古代の政治では、摂政や関白という役職が政治の中心となることがあった。摂政は、天皇が幼いときや女性のときに、天皇に代わって政治を行った。飛鳥時代に、女性である推古天皇の摂政となった聖徳太子は、役人の心構えや、①能力のある人を役人に取り立てる制度を作った。

明治時代に制定された大日本帝国憲法でも摂政の制度は定められており、②昭和天皇は、皇太子であった③大正時代に、病気になった大正天皇の摂政となった。現在の④日本国憲法でも、第5条で摂政について定めている。

一方、関白は、天皇が成長してからも天皇に代わって政治を行う役職である。初めて関白となったのは藤原基経で、以後摂政・関白の役職は藤原氏が独占し、11世紀前半には藤原氏による摂関政治が全盛期を迎えた。関白の役職を子に譲った人は□⑤□と呼ばれ、藤原氏以外で関白となったのは、⑥豊臣秀吉とその養子である豊臣秀次の2人のみである。したがって、豊臣秀吉は秀次に職を譲ってからは□⑤□と呼ばれていた。

また、古代の律令にもとづく政治のしくみを太政官制という。太政大臣は、中央政府の最高機関である太政官の最高官で、主に皇族や藤原氏などが就いたが、後には武士もこの役職を与えられている。武士で最初に太政大臣となった⑦平清盛の政治は、藤原氏の摂関政治と共通点が見られた。以後、足利義満、豊臣秀吉、徳川家康、徳川秀忠、徳川家斉が太政大臣となった。

武士として政治の実権を握った人たちは、大部分が征夷大將軍に任じられ、幕府で政治を行った。征夷大將軍は、もともと蝦夷を征討するために朝廷に置かれた臨時の役職であり、平安時代初期に⑧征夷大將軍となった坂上田村麻呂が有名である。鎌倉時代の1192年に源頼朝が征夷大將軍に任命されて以降、源氏、足利氏、⑨徳川氏の棟梁が就いた。鎌倉時代は、⑩源氏の将軍が絶えた後、北条氏による執権政治が行われ、また江戸時代は、老中が中心となって政治改革を進めることもあった。

江戸幕府の滅亡後、新たに政治を行うことになった明治政府は、律令政治のしくみと同じく太政官制をとり、公家出身の□⑪□は右大臣となった。しかし、内閣制度が創設されると、太政官制は廃止され、以後、現代に至るまで内閣総理大臣が中心となって政治を進めている。初代内閣総理大臣の伊藤博文は4度内閣総理大臣となり、在任中には⑫ノルマントン号事件、⑬八幡製鉄所の操業開始などのできごとがあった。大正時代には、議会で多数を占める政党の党首が内閣総理大臣となり内閣を組織する政党内閣が発達したが、昭和時代に起こった⑭五・一五事件以降は、軍人が内閣総理大臣を務めることが多くなっていった。

第二次世界大戦後の日本国憲法下では、国民が選んだ国会議員の中から⑮内閣総理大臣が選出され、独立の回復、諸外国との国交回復、国際社会への復帰などをめざした。

〔1〕下線部①を何というか，漢字5字で答えなさい。

〔2〕下線部②について，昭和天皇が崩御した年に，冷戦が終結した。冷戦に関連するできごとについて述べた文として正しいものを，次のア～エから1つ選び，記号で答えなさい。

ア. 1950年に始まった朝鮮戦争は，1953年，北緯40度線付近を軍事境界線として終戦した。

イ. 1949年にドイツは東西に分かれて独立し，西ドイツにあるベルリンも東西に分けられ，壁が築かれた。

ウ. アメリカがキューバに核ミサイル基地を作ったことをきっかけに，ソ連との間で核兵器を使った戦争への危機が高まった。

エ. 北と南に分かれていたベトナムは，アメリカが軍事介入したベトナム戦争が終結すると，南北が統一された。

〔3〕次の資料1は，下線部③のころに富山県から全国に広がったできごとの様子を描いたものである。このできごとに最も関係の深いできごとを，あとのア～エから1つ選び，記号で答えなさい。



資料1

ア. ロシアで革命が起こり，世界初の社会主義政府が成立した。

イ. 中国で義和団事件が起こり，列強の連合軍によって鎮圧された。

ウ. アメリカで株価が大暴落し，世界各国に不況が広がった。

エ. パリ講和会議で民族自決が唱えられ，アジアやアフリカで独立運動が高まった。

〔4〕下線部④で保障されている基本的人権のうち，教育を受ける権利はどの人権に分類されるか，次のア～エから1つ選び，記号で答えなさい。

ア. 自由権 イ. 参政権 ウ. 平等権 エ. 社会権

〔5〕 ⑤にあてはまる語句を，漢字2字で答えなさい。

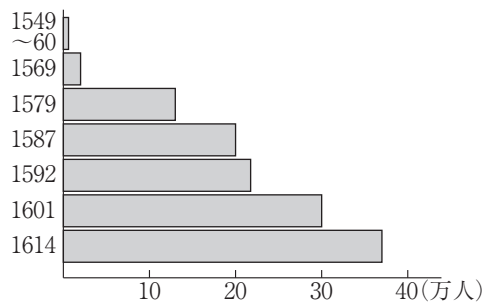
〔6〕 下線部⑥は，1587年に次の資料2の命令を出してキリスト教を禁じた。資料3は当時のキリスト教徒の数の移り変わりを示しており，年表は江戸幕府が行った政策の一部を示している。下線部⑥の人物と江戸幕府のとったキリスト教に対する政策のちがいを，3つの資料すべてを使って説明しなさい。

一 宣教師は……（略）……今日から20日以内に帰国するように。
 一 今後，仏教を妨げないのであれば，商人はもちろん，だれでもキリスト教の国から行き来してもよい。

資料2

年表

年	できごと
1616	ヨーロッパ船の来航を長崎・平戸のみとする
1624	スペイン船の来航禁止
1635	日本人の海外渡航・帰国を禁止
1639	ポルトガル船の来航禁止
1641	平戸のオランダ商館を長崎の出島に移す



(「日本キリスト教史」をもとに作成)

資料3

〔7〕 下線部⑦について，平清盛と藤原氏が朝廷で権力を握るようになった背景の共通点を示すための資料として最も適切なものを，次のア～エから1つ選び，記号で答えなさい。

- ア. 藤原氏，平氏それぞれが戦いをを行った場所を示した地図
- イ. 藤原氏と御家人，平氏と御家人の関係を示した図
- ウ. 藤原氏と天皇家，平氏と天皇家の系図
- エ. 藤原氏，平氏それぞれに従う武士の数のグラフ

〔8〕 下線部⑧について，坂上田村麻呂を征夷大將軍に任命した天皇の名を，答えなさい。

〔9〕 下線部⑨について，右の資料4に代表される文化が発達したころの將軍はだれか，次のア～エから1つ選び，記号で答えなさい。

- ア. 徳川吉宗 イ. 徳川綱吉
- ウ. 徳川家光 エ. 徳川慶喜



資料4

- [10] 次の資料5は下線部⑩のころのある人物の言葉、資料6は下線部⑩のころに制定された法の一部を示している。資料5と資料6の間に起こったできごととして正しいものを、あとのア～エから1つ選び、記号で答えなさい。

みなの方、よく聞きなさい。これが最後の言葉です。亡き頼朝公が幕府を開いて以来、官職や土地など、その恩は山より高く、海より深いものでした。 (一部要約)

資料5

一 諸国の守護の仕事は、頼朝公のころに決められたように、京都の御所の警護、殺人や謀反など犯罪人の取り締まりに限る。 (一部要約)

資料6

- ア. 京都に六波羅探題が置かれた。 イ. 平治の乱が起こった。
ウ. 奥州藤原氏が滅ぼされた。 エ. 元が2度にわたって襲来した。

- [11] ⑪は、1871年に使節団の全権大使として欧米諸国に派遣された。⑪にあてはまる人物名を答えなさい。

- [12] 下線部⑫の後、日本では、幕末に結ばれた不平等条約で日本が外国に対して認められた権利の撤廃を求める声が高まった。この権利を何というか、答えなさい。

- [13] 下線部⑬が設置された都道府県の歴史について述べた文として正しいものを、次のア～エから1つ選び、記号で答えなさい。

- ア. 「天下の台所」と呼ばれ、商業の中心地として栄えた。
イ. 外国との外交・防衛のために大宰府が設置された。
ウ. 首里を都とする琉球王国が建てられ、独自の文化を築いた。
エ. 大規模な集落の跡である三内丸山遺跡が見つかった。

- [14] 次のア～エは、下線部⑭に起こったできごとを示している。ア～エを年代の古い順に並べて、記号で答えなさい。

- ア. 国家総動員法が制定され、議会の承認なく物資などを戦争に動員できるようになった。
イ. 満州国が認められなかったことなどから、日本が国際連盟を脱退した。
ウ. ハワイの真珠湾にあるアメリカ軍基地を、日本軍が攻撃した。
エ. 連合国がポツダム宣言を発表し、日本への無条件降伏などを求めた。

- [15] 下線部⑮について、沖縄が日本に復帰したときの内閣総理大臣を、次のア～エから1つ選び、記号で答えなさい。

- ア. 吉田茂 イ. 岸信介 ウ. 佐藤栄作 エ. 田中角栄

Ⅲ. 2021～2022年のいくつかのできごとをまとめた次の表を見て、以下の問いに答えなさい。

マイナポイント事業	マイナンバーカードの普及などを目的として導入された。マイナンバーは個人や①株式会社などの法人につけられている。マイナンバーの導入により、②税や③社会保障などの負担・給付の公正化、行政事務の効率化などが期待されている。マイナンバーカードの普及推進は、 <input type="text" value="④"/> 庁が担当している。
衆議院議員総選挙、参議院議員通常選挙	2021年10月14日に⑤衆議院が解散され、31日に衆議院議員総選挙が行われた。2022年7月10日には、参議院議員通常選挙が実施され、各党は急速に進む⑥円安や物価高など、経済・⑦財政への対策を公約した。
ロシアのウクライナ侵攻	2022年2月24日に、⑧ウクライナへのミサイル攻撃や空爆が開始され、ロシアによるウクライナ侵攻が始まった。⑨25日には、国際連合の安全保障理事会で、ロシア非難決議が採決された。

〔1〕下線部①について述べた文として正しいものを、次のア～エから1つ選び、記号で答えなさい。

- ア. 株式会社は、公企業の代表的な企業形態である。
- イ. 株主が出席する取締役会では、経営方針の決定などが行われる。
- ウ. 株主は、利潤の一部を配当として受け取ることができる。
- エ. 株主が保有している株式は、自由に売買することはできない。

〔2〕下線部②について、直接税にあてはまるものを、次のア～エから2つ選び、記号で答えなさい。

- ア. 固定資産税
- イ. 関税
- ウ. 消費税
- エ. 所得税

〔3〕下線部③について、図1は社会保障制度における福祉と負担の関係を示したものである。自分が最も望ましいと思う福祉と負担の関係は、図1中のA～Dのどれか、1つ選び、記号で答えなさい。また、その根拠にあてはまるものを、次のア～エから1つ選び、記号で答えなさい。

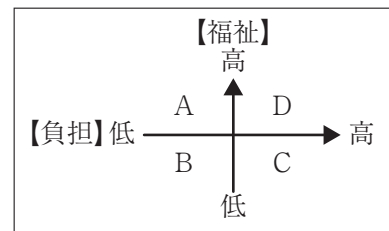


図1

- ア. 税や社会保険料の負担は軽い方が助かるが、福祉は充実させてほしい。
- イ. 税や社会保険料の負担が大きくなるのは避けられないが、福祉は最低限でよく、あとは個人個人がそなえればよい。
- ウ. 福祉は最低限でよい分、税や社会保険料の負担は軽い方が望ましい。
- エ. 充実した福祉を望むため、税や社会保険料の負担が重くなることはしかたない。

〔4〕 ④にあてはまる、2021年9月に発足した庁を何というか、答えなさい。

〔5〕 下線部⑤について述べた次の文章中の〔X〕～〔Z〕にあてはまる語句を、それぞれ答えなさい。

衆議院は、参議院よりも任期が短く〔X〕があることから、衆議院の優越が認められている。予算や条約、内閣総理大臣の指名について衆議院・参議院の議決が異なるときは〔Y〕が開かれ、意見が一致しない場合は衆議院の議決が優先される。また、現状の内閣が信頼できないと考えるときは、衆議院のみが〔Z〕の議決を行うことができる。

〔6〕 下線部⑥について、為替相場の動きを示した右の図2において、1ドル120円を基準として、円安となるのはア・イのうちどちらか、1つ選び、記号で答えなさい。また、日本がアメリカに150万円の自動車を輸出するとき、図2のように円安になると、アメリカでの自動車の価格はどのように変化するか、具体的な数値を使って答えなさい。

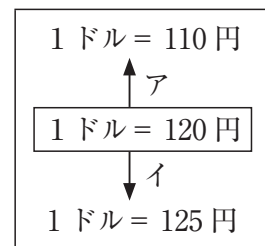


図2

〔7〕 下線部⑦について、近年、財政の歳出の多くを社会保障関係費が占めるようになってきている。社会保障について述べた次の文にあてはまるものを、あとのア～エから1つ選び、記号で答えなさい。

最低限度の生活を送ることが難しい人々に対して、法律にもとづいて生活費などを支給する制度。

ア. 社会保険 イ. 公衆衛生 ウ. 社会福祉 エ. 公的扶助

〔8〕 下線部⑧の位置を、右の図3中のア～エから1つ選び、記号で答えなさい。また、日本では、2022年3月からこの国の首都を何と表記するようになったか、カタカナで答えなさい。



図3

〔9〕 次の表は、下線部⑨のときの安全保障理事会（理事国15か国）の採決の結果の一部を示したものである。この議案は採択されたか、それとも不採択となったか、その理由を含めて、答えなさい。

賛成	フランス、イギリス、アメリカ合衆国、アルバニア、ブラジル、ガボン、ガーナ、アイルランド、ケニア、メキシコ、ノルウェー
棄権	中国、インド、アラブ首長国連邦