

2023 年度 C

社 会

(全 13 ページ)

注意事項

1. 受験番号, 氏名および解答はすべて解答用紙に記入しなさい。
2. 問題用紙に解答を書きこんでも採点されません。
3. 解答は, ていねいに書きなさい。
4. 解答は, すべて定められたところに記入しなさい。

I. 次の問いに答えなさい。

地図



〔1〕 次の文章は、地図中に \longrightarrow で示した海流について説明したものである。文章中の□X～□Zにあてはまる語句を、それぞれ漢字2字で答えなさい。

岩手県から宮城県に連なる三陸海岸^{さんりく}の沖合では、寒流の□X海流と暖流の□Y海流がぶつかる□Zとなっている。□Zは、寒流と暖流それぞれにすむ魚が集まり、また、えさとなるプランクトンも多いため魚が繁殖^{はんしょく}しやすく、好漁場となっている。

〔2〕次の表1中のア～エは、地図中に■で示した4都道府県のいずれかを示している。瀬戸内工業地域に位置する都道府県を示しているものを、ア～エの中から1つ選び、記号で答えなさい。

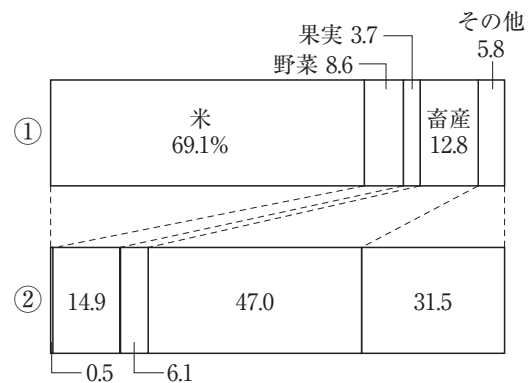
| | 工業出荷額（億円） | | | | |
|---|-----------|------|-------|----------------|---------|
| | 合計 | せんい | 化学工業 | 電子部品・デバイス・電子回路 | 輸送用機械器具 |
| ア | 178722 | 431 | 19683 | 3840 | 37500 |
| イ | 65735 | 565 | 19791 | 673 | 11825 |
| ウ | 28679 | 489 | 2680 | 5008 | 1267 |
| エ | 172701 | 3037 | 16635 | 3936 | 15699 |

（統計年次は2019年，2022年版『データでみる県勢』より作成）

表1

〔3〕次の資料1は屋敷林で囲まれた家、図1は地図中のP・Qのいずれかの県の農業産出額割合を示している。資料1が見られる県の位置とその県の農業産出額割合の組み合わせとして正しいものを、あとのア～エの中から1つ選び、記号で答えなさい。

資料1 屋敷林で囲まれた家



（統計年次は2019年，2022年版『データでみる県勢』より作成）

図1

- ア 位置－P 割合－① イ 位置－P 割合－②
 ウ 位置－Q 割合－① エ 位置－Q 割合－②

〔4〕 地図中の佐賀県は、日本有数のアスパラガスの産地である。次の図2はアスパラガスの東京都中央卸売市場への月別出荷量、図3は地図中の佐賀県（佐賀市）、メキシコの都市（プエルトベニヤスコ）の気温と降水量を示したものである。メキシコからの輸入時期の特色を、気候にふれて、簡単に説明しなさい。

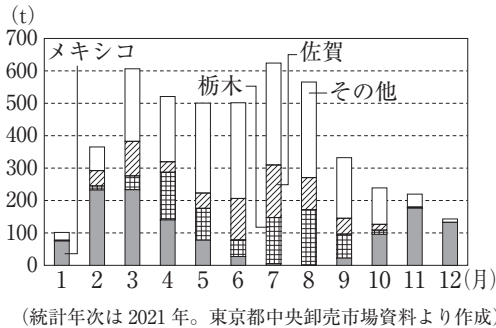


図2

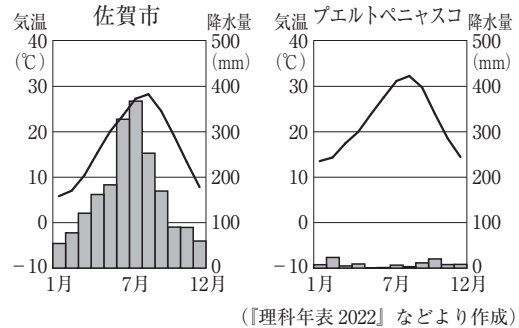


図3

〔5〕 次の図4は、地図中の北海道で行われている農作物の栽培方法を説明したものである。このような栽培方法を何というか、答えなさい。

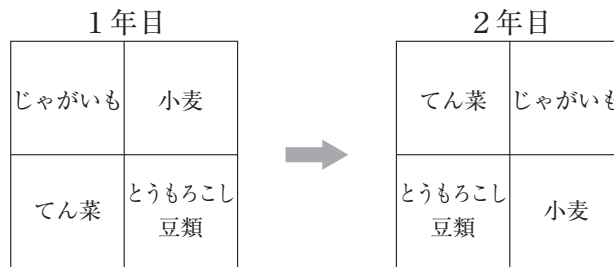


図4

〔6〕 地図中の★には、2015年に登録された世界遺産の構成資産の1つが位置しています。この構成資産でつくられているものを、1960年と2020年の日本の輸出品割合を示した次の図5中のア～エから1つ選び、記号で答えなさい。

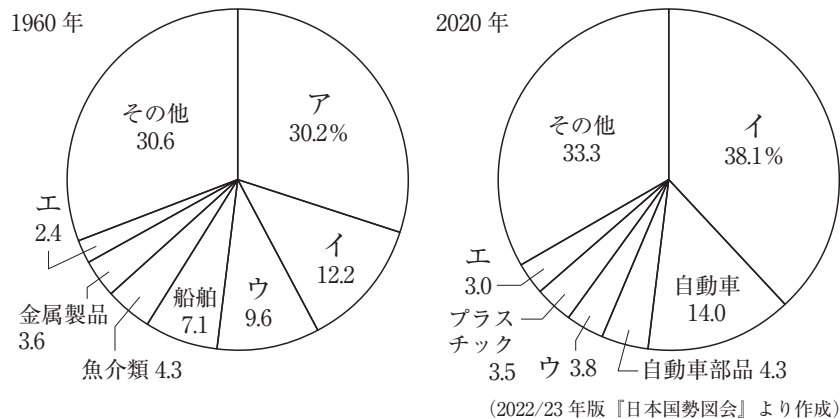
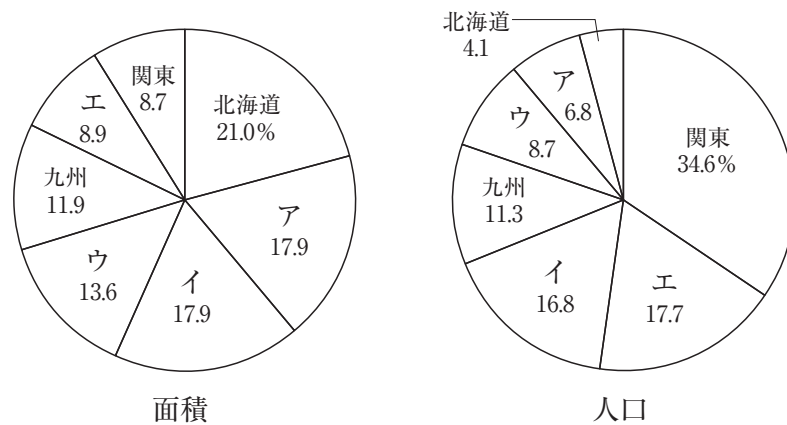


図5

〔7〕地図中のRの都市において、発生しやすい自然災害への対策としてどのような家づくりが行われているか、あてはまるものを、次のア～エの中から1つ選び、記号で答えなさい。

- ア 屋根のかたむきを急にしたり、屋根を温めることができるようにしている。
- イ 家のまわりを石垣や樹木で囲ったり、コンクリートづくりの家にしたりしている。
- ウ 町のまわりを堤防で囲い、石垣の上の高いところに家を建てている。
- エ 玄関や窓を二重にして、水道管は地中の深いところを通るようにしている。

〔8〕次の図6は日本の7地方についての面積と人口に占める割合を示したもので、資料2は図6中のア～エの地方のいずれかについて述べたものである。資料2があてはまる地方を、ア～エの中から1つ選び、記号で答えなさい。また、この地方名を答えなさい。



(統計年次は2020年。2022/23年版『日本国勢図会』より作成)

図6

資料2

この地方は、政治や文化の中心であった時代が長く、歴史的な都市が数多くある。また古い歴史を持つ港は国際的な貿易港にも成長し、異国情緒あふれる街並みが形成された。多くの人が集まる都市向けに野菜の栽培もさかんで、「九条ねぎ」「大和いも」などの在来種が現在では地域おこしにも利用されている。

II. 次のA～Fの写真について、あとの問いに答えなさい。


A




B



C



D



E



F



〔1〕写真Aは、野尻湖^{のじりこ}で発見されたナウマンゾウ^{きぼ}の牙などの化石である。写真Aについて述べた次の文章中の あ い にあてはまる語句の組み合わせとして正しいものを、あとのア～エの中から1つ選び、記号で答えなさい。

あ 大陸で生まれた人類は、やがて食料であるナウマンゾウなどを追って日本列島にやってきたと考えられている。当時は地球が い だったため海面が低く、大陸とつながっており、歩いて移動できた。

- ア あ - ユーラシア い - 寒冷
 イ あ - ユーラシア い - 温暖
 ウ あ - アフリカ い - 寒冷
 エ あ - アフリカ い - 温暖

〔2〕写真Bは、平城京跡^{へいじょうきょう}で出土した木簡^{もっかん}である。次の問いに答えなさい。

(1) 次の文章は、写真Bの木簡に書かれている文字と内容について説明したものである。文章中の□に共通してあてはまる語句を、あとのア～エの中から1つ選び、記号で答えなさい。

写真Bの木簡は、このころの成年男子に課せられていた税の一種である□につけられた荷札である。同じような木簡に、例えば、「志摩国志摩郡道後里^{しまのくに} 戸主証直猪手^{とうごのり} 戸口同身麻呂^{あかなおいて} 御□^{みまろ}海松六斤^{うみまつ きん}」と書かれているものがある。これは、志摩国志摩郡道後里に住む証直猪手という人物を戸主とする証直身麻呂が、□として海松（海藻の一種）^{かいそう}を6斤納入したという記録である。

ア 雑徭 イ 調 ウ 租 エ 防人

(2) 右の資料1は、写真Bの時代の筑前国^{ちくぜん} 嶋郡（現在の福岡県）の戸籍^{こせき}の一部を、わかりやすく書きかえたものである。資料1の戸籍において、口分田を支給された人数を、算用数字で答えなさい。

資料1

| | | | | | | |
|---|----|-------|--------|--------|--------|------------|
| | 男 | 男 | 妻 | 母 | 戸主 | 筑前国嶋郡戸籍川辺里 |
| { | 名前 | 卜部和智志 | 卜部久漏麻呂 | 卜部甫西豆売 | 葛野部伊志売 | 乃母曾 |
| | 年齢 | 年六歳 | 年十九歳 | 年四十七歳 | 年七十四歳 | 年四十九歳 |

〔3〕写真Cは、元軍が九州北部に襲来したときのようすを描いたものである。元軍の襲来による影響^{えいぎょう}について述べた文として正しいものを、次のア～エの中から1つ選び、記号で答えなさい。

- ア 恩賞^{おんしょう}が十分にあたえられなかった御家人が、幕府への不満を強めた。
- イ 朝鮮半島から来た陶工^{とうこう}によって、焼きものづくりの技術が伝わった。
- ウ 下剋上^{げこくじょう}の風潮^{ふうちゆう}が高まり、全国で戦国大名が台頭した。
- エ 将軍と御家人の間に、御恩^{ごおん}と奉公^{ほうこう}の関係が築かれた。

〔4〕写真Dは、江戸城を描いたもので、右の資料2は江戸城の歴史の一部をまとめたものである。次の問いに答えなさい。

(1) 資料2中の下線部の後、江戸では、民衆からの意見をもとに、民間の消防隊として、町火消がつくられた。江戸幕府はどのようにして民衆の意見を幕政に取り入れたのか、簡単に説明しなさい。

(2) 資料2中のXの時期に起こったできごととして誤っているものを、次のア～エの中から1つ選び、記号で答えなさい。

ア 武力による統治から、礼儀や儀式によって社会を安定させようという政治に変換していく中、生類憐みの令が出された。

イ 政治の実権を天皇に返す大政奉還が行われたことを受けて、王政復古の大号令が出された。

ウ 幕府の財政を立て直すため、大名の参勤交代を緩める代わりに米を献上させる上米の制が行われた。

エ 貿易や宗教を統制するために、日本人の出国と帰国を禁止し、出島を築いてオランダ商館を移設した。

資料2 江戸城の歴史

| 年代 | できごと |
|------|------------------|
| 1590 | 徳川家康が入城する |
| 1638 | 天守閣が完成する |
| 1657 | 明暦の大火で天守閣などが焼失する |
| | ↑ X ↓ |
| 1868 | 江戸城を無血開城する |

〔5〕写真Eは、明治時代初めの銀座を描いたものである。次の問いに答えなさい。

(1) 写真Eについて述べた次の文章の下線部の政策を何というか、ひらがな7字で答えなさい。

銀座の街並みの変化は、鹿鳴館の建設と並び、井上馨が中心となって進めた政策を代表するものである。この政策は条約改正を目標としていた。

(2) 写真Eのころの社会のようすとして最も適切なものを、次のア～エの中から1つ選び、記号で答えなさい。

ア 前島密が郵便制度の創設に尽力し、全国に郵便網が広まった。

イ ラジオ放送が始まり、新聞と並ぶ情報メディアに成長した。

ウ 庶民の間で、御伽草子とよばれる絵入りの物語がさかんに読まれた。

エ 女性がタイピストや車掌といった職業に就き、女性の社会進出が進んだ。

〔6〕写真Fは、日本が国際連盟を脱退することを報じた新聞の一部である。次の問いに答えなさい。

(1) 右の資料3は、日本が国際連盟を脱退し 資料3

たことと関わりが深い調査団の調査の様子である。資料3の調査団が、調査の結果、建国を認めなかった国の国名を、漢字3字で答えなさい。



(2) 写真Fよりあとに起こったできごととして正しいものを、次のア～エの中から1つ選び、記号で答えなさい。

ア ^{かとうたかあき}加藤高明内閣によって、25歳以上の男子に選挙権を与える ^{ふつう}普通選挙法が成立した。

イ ^{このえふみまる}近衛文麿内閣のもとで、すべての政党が解散され、^{たいせいよくさんかい}大政翼賛会にまとめられた。

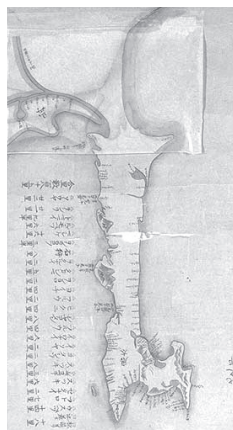
ウ 海軍青年将校らによって内閣総理大臣である ^{いぬかいつよし}犬養毅が暗殺される五・一五事件が起こった。

エ ^{よさのあきこ}与謝野晶子が出征した弟の身を案じて、「君死にたまふことなかれ」^(う)を発表した。

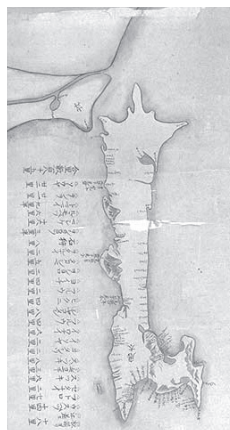
〔7〕次の資料4は、ある時代に描かれた樺太の地図である。2つの地図を比較すると、樺太に関する大きな変化が見られる。樺太が変化後の形であると確認された時代の写真を、A～Fの中から1つ選び、記号で答えなさい。また、樺太の形を確認した人物名を、答えなさい。

資料4

変化前



変化後



Ⅲ. 地域の再生に関する次の文章を読んで、あとの問いに答えなさい。

日本再生と地方創生

事業創生を主題とした会議に出ることが多い。よく出てくる言葉に「日本再生」と「地方創生」がある。日本は労働生産性が上がらず、デジタルによる社会と①産業構造の改革が進まず、②労働人口は減少している。その中で、「国内総生産（GDP）が中国に抜かれたが、我々はまだ世界第3位の経済大国だ、日本を再興しよう」という大国意識も残っている。社会学者ヴォーゲルの著書「ジャパン・アズ・ナンバーワン（1979）」が述べた日本経済の黄金期は幻想に過ぎなかった。我々の今持つ国力を超えた幻想を見たが故に製造業モデルからの転換、世界で生きていくという行動規範の醸成が遅れた。そのような状況で、米国・中国の③巨大IT（情報技術）プラットフォーマーとどう向き合えば良いですか？ という国力を超えた議論には個人的に参加できていない。

日本の地域産業と世界企業との関わり

先月、理事を務める社会システムデザインセンターで“日本美”指向による社会システムデザインというパネル討議をイタリア、スウェーデンからのパネリストも得て行った。主旨はGDPでもなく労働生産性でもなく、④ウェルビーイング（善いあり方、誰かにとって本質的に価値のある状態）に関するものであった。

パネリストの一人である、公立はこだて未来大学、田柳恵美子教授は以下を述べた。

経済のグローバル化に伴い、世界的な産業の特化が広く深く進んだ結果、世界経済の富は⑤ロンドン、ニューヨーク、東京などの限られた一部の先進地域と北西ヨーロッパに集中している。しかし一方で、この20年の間に、都市、地域、コミュニティの階層は大きく変化した。グローバルな競争と地域間の協力という選択肢が、それぞれの生き残りをかけて生み出されている。以下の実例が挙げられた。

「MIYABI」という包丁はご存知だろうか。世界のプロの料理人向けの高級品として知られている。ドイツの刃物製造の90%は1990年代には関や燕三条などの日本の刃物産地に移転された。その上でゾーリングゲンのトップ企業が、日本の伝統的和包丁の技術を学ぶために、地元の関市の職人と新しい会社を立ち上げ、研究開発に取り組んだ結果だ。

もう一つの例は、北海道函館とフランスのブルゴーニュ地方とのワイナリー産業のコラボだ。フランスの職人たちは、函館に定住して自社のブドウ畑を耕し、2020年からすでに北海道産のブドウだけを使ったヴァンテージを発表している。函館ではここ数年、自然派志向のワイナリーの参入を契機に新規参入者が急増しており、⑥全国から畑の収穫を手伝いにワインマニアも集うと聞く。ほんの10年ほど前までは、函館ではそんなことが起こるとは誰も思っていなかったようだ。

地域産業の再生

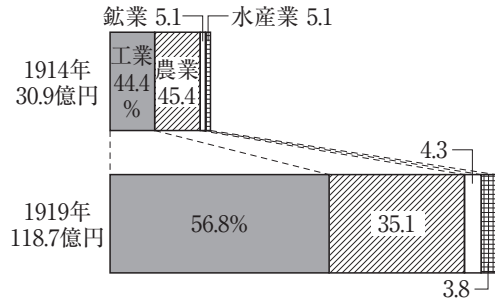
グローバルなコラボ以外では、小さな地域の再生が進む気配がみえる。代表的な例は徳島県神山町で、人口は4700人だが、ITベンチャーのサテライトオフィスを開設するなどして人口が増加している。2023年には独自の高専を新設する予定だ。

今後、地域産業の経営人材不足が待ったなしの事業承継問題として顕在化する。我々は既存の社会構造の外側にあるものにもっと目を向ける必要がある。地域で高級刃物を作る、ワインを作る、学校を作る。地域でもグローバルに商売相手と人材を探すことはできる。それには⑦首長と地域産業のリーダーシップが重要だ。応援したい。

(NTTドコモ「コラム：イノベーション創発への挑戦」『ウェルビーイングな地域のあり方』より作成、一部改変)

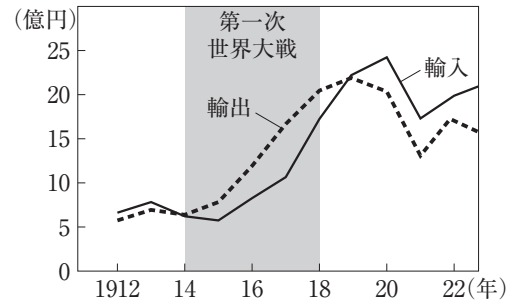
〔1〕下線部①について、次の図1は第一次世界大戦前後の日本の産業構造、図2は同時期の日本の貿易の変化を示したものである。第一次世界大戦中に日本の産業構造はどのように変化したか、変化した理由とともに説明しなさい。なお、説明には次の用語を必ず用いること。

〔用語： 欧米諸国 工業製品 〕



〔日本資本主義発達史年表〕より作成

図1



〔明治以降本邦主要経済統計〕より作成

図2

〔2〕下線部②について、次の問いに答えなさい。

(1) 日本国憲法では、国民は勤労の権利を有していると規定されている。基本的人権のうち、勤労の権利と同じく社会権によって保障されていることがらとして正しいものを、次のア～エの中から1つ選び、記号で答えなさい。

ア だれでも、自分がなりたい職業を選ぶことができる。

イ 生活が困窮したときでも、最低限度の生活をおくることができる。

ウ 満18歳以上の男女は、選挙で投票することができる。

エ 裁判の際、自分が言いたくないことは言わなくてもよい。

(2) 現代の労働について述べた文として誤っているものを、次のア～エの中から1つ選び、記号で答えなさい。

ア 日本では、少子高齢化で働く人の数が減っており、対策として会社を定年した人の再雇用や、外国人労働者の受け入れなどが行われている。

イ 国際連合の専門機関であるユネスコは、活動の一環として児童労働問題の解決に取り組んでいる。

ウ 労働時間を短縮し、休暇制度を充実させることで、仕事と個人の生活を両立させるワーク・ライフ・バランスの実現が重要視されている。

エ 労働基準法では、労働時間や休日など、労働するうえでの最低限の基準が定められている。

[3] 下線部③について述べた次の文章中の□あ・□いにあてはまる語句の組み合わせとして正しいものを、あとのア～エの中から1つ選び、記号で答えなさい。

プラットフォームとは、インターネットなどを利用して事業を行うときに、事業の基盤となる情報システムや通信システムを提供している企業のことである。現在では、こうした基盤を提供しながら膨大な情報を収集してビジネスを展開している巨大IT企業を指すことが多くなっている。私たちが日常的に使用する検索サービスやSNSサービス、インターネット・ショッピングサービスなどを通じ、プラットフォームは膨大な個人情報を収集しており、それがいつ、どう使われるかを利用者が把握するのはほぼ不可能である。また、インターネット上では、一度拡散された情報を消去することはほとんど不可能であり、情報が半永久的に残り続けることから「デジタルタトゥー」ともよばれる。

このような中で、個人の要求によってデータを消去することができる「忘れられる権利」が提唱されている。一方で、「忘れられる権利」は、従来から求められてきた、情報を受け取る側の□あや情報を発信する側の□いの自由などと対立することとなるため、どう両立するかという課題がある。

ア □あ - 自己決定権 □い - 表現

イ □あ - 自己決定権 □い - 思想

ウ □あ - 知る権利 □い - 表現

エ □あ - 知る権利 □い - 思想

〔4〕下線部④について、ウェルビーイングという言葉は、1948年に設立された世界保健機関が掲げる憲章の中にも出てくるものである。この世界保健機関の略称を、アルファベット3字で答えなさい。

〔5〕下線部⑤の都市に暮らす、Aさん、Bさん、Cさんがオンラインで電話をしようとしている。次の図3は3都市の位置、資料4は3人の予定を示したものである。1時間電話をする場合、Bさんが電話をかけ始める時間として最も適切な時間を、日本時間で、午前・午後を明らかにして答えなさい。(サマータイムは考えないものとします。)

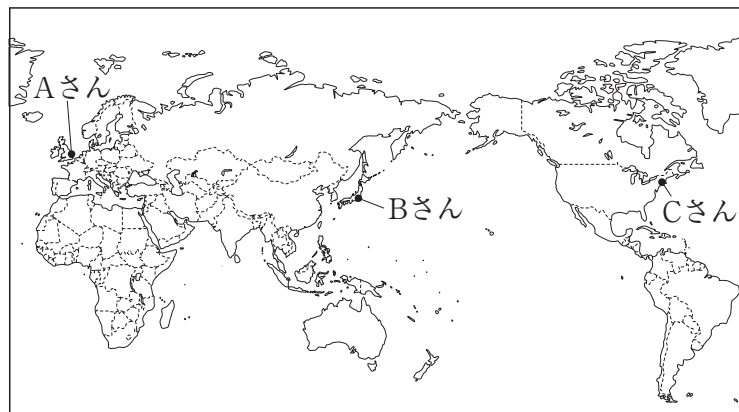


図3 3都市の位置

資料4 3人の予定

Aさん：午前10時から午後6時まで空いているよ。
Bさん：午後10時までに電話が終われば、大丈夫だよ。
Cさん：ロンドンとの時差は5時間だね。午前7時から正午まで空いているよ。

〔6〕下線部⑥について、農作物の収穫体験などをはじめとして、農村や漁村地域において自然、文化、人々との交流を楽しむ滞在型の観光を何というか、答えなさい。

〔7〕下線部⑦について、内閣の首長は内閣総理大臣、都道府県の首長は都道府県知事である。内閣総理大臣と都道府県知事の選出方法のちがいについて、簡単に説明しなさい。

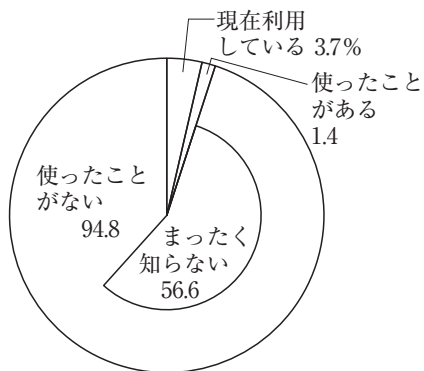
IV. 近年、「メタバース」とよばれるインターネット上の仮想空間が注目されている。資料1～4を参考にして、メタバースを利用することの長所（メリット）を2つ、また、それに対する課題を2つ考え、100字以上で説明しなさい。解答するにあたり、以下の用語を必ず使用し、使用した部分に下線を引きなさい。（同じ用語を何度使用しても構いません。）

〔用語： 市場 雇用 所有権 法整備 〕

資料1 メタバースについて

メタバースは、パソコンやスマートフォン、ゲーム機などさまざまな機器を使って利用することができる。メタバース上には、現実とは異なる仮想空間がつくられ、あるゲームでは、メタバース上の土地が数十万円で取引されていた。2030年にはメタバースの市場規模が10兆ドルになるという予測もある。一方で、メタバースは、現実世界とは異なる自分にとって都合がよい快適な世界を形成できるとの認識もあり、メタバースを長時間利用しすぎて、現実世界との区別がつかなくなるとの指摘もある。

資料2 メタバースの利用割合



※四捨五入の都合で100%にならない。
(統計年次は2022年、MMD研究所資料より作成)

資料3 アバターでの活動例

ある企業では、障がいなどで外出が困難な人がアバター（自分自身の分身のキャラクター）を操作し、仮想空間サービスでの接客業務を行っている。



(NTT 資料より作成)

資料4 日本の法律について

日本の法律である民法では、所有権は「物」を対象としているため、デジタルデータに対する所有権は確立されていない。